
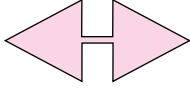
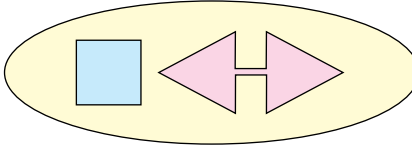

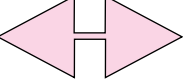


3. Ünite: Basit Olayların Olma Olasılığı/Cebirsel İfadeler ve Özdeşlikler


1. Aşağıda bazı şekiller ve bu şekillerin ifade ettiği işlemler verilmiştir.

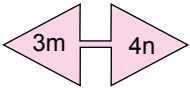
 : İçine yazılan ifadeyi, bu ifadenin kendisi ile çarpar.

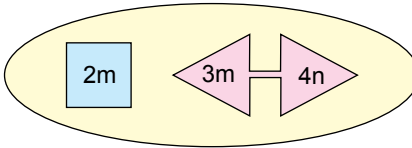
 : Üçgensel bölgelerin içine yazılan ifadeleri birbiri ile çarpar.

 :  ve  işlemlerinden elde edilen sonuçları toplar.

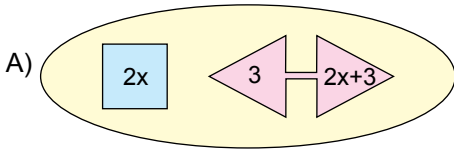
Örnek:

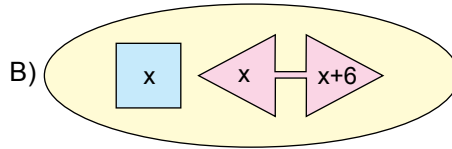
 : $2m \cdot 2m = 4m^2$

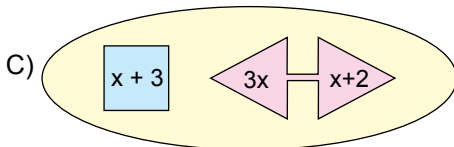
 : $3m \cdot 4n = 12mn$

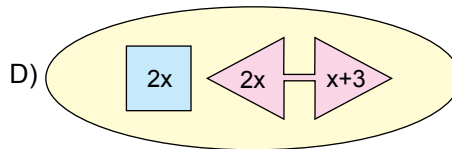
 : $4m^2 + 12mn$

Buna göre aşağıdaki işlemlerden hangisinin sonucu $(2x + 3)^2$ ifadesine eşittir?

A) 

B) 

C) 

D) 

3. Ünite: Basit Olayların Olma Olasılığı/Cebirsel İfadeler ve Özdeşlikler

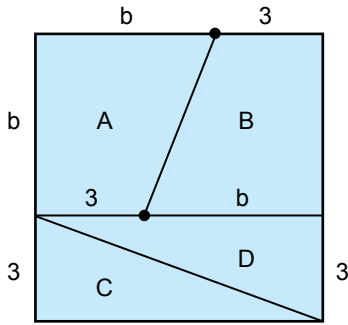
2. Aşağıda kısa kenarı $(4x + 16)$ m, uzun kenarı $(6x + 18)$ m olan dikdörtgen şeklindeki bir konser alanının krokisi verilmiştir. Alanları eşit 6 sıradan oluşan bu konser alanında sıra numarası tek olan bölgeler 4 eş parçaya, sıra numarası çift olan bölgeler 2 eş parçaya ayrılmıştır.

6. sıra	R Blok		S Blok	
5. sıra	M blok	N blok	O Blok	P Blok
4. sıra	K Blok		L Blok	
3. sıra	G Blok	H Blok	I Blok	J Blok
2. sıra	E Blok		F Blok	
1. sıra	A Blok	B Blok	C Blok	D Blok

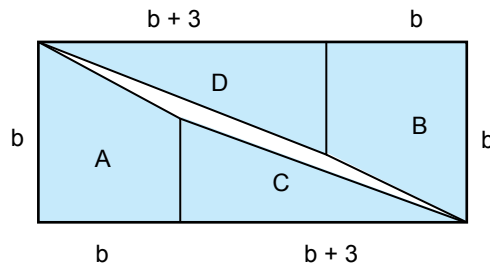
Konser alanında yer alan K ve P bölgelerinin alanları arasındaki fark metrekare cinsinden aşağıdaki cebirsel ifadelerden hangisine eşittir?

- A) $x^2 + 6x + 9$ B) $x^2 + 7x + 12$ C) $x^2 + 8x + 16$ D) $x^2 + 9x + 20$

3.



Şekil I



Şekil II

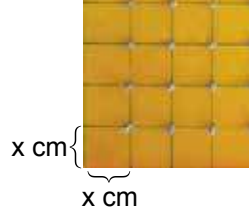
Kare şeklindeki pano Şekil I'de gösterildiği gibi 4 parçaya ayrılıyor. Daha sonra elde edilen bu parçalar Şekil II'deki gibi birleştirilerek bir dikdörtgen elde ediliyor. Elde edilen dikdörtgende parçaların arasında birleşmeyen bir bölgenin kaldığı gözleniyor.

Buna göre Şekil II'de elde edilen dikdörtgende parçalar arasında kalan bölgenin alanını gösteren cebirsel ifade aşağıdakilerden hangisidir?


- A) $b^2 + 3b + 9$ B) $b^2 + 3b - 9$ C) $b^2 - 3b + 9$ D) $b^2 - 3b - 9$

3. Ünite: Basit Olayların Olma Olasılığı/Cebirsel İfadeler ve Özdeşlikler


4. Geometri tahtası bir zeminin üzerine eşit aralıklarla yerleştirilmiş çivilerden oluşur.



Kuzey ve Duru, matematik dersi için proje ödevi olarak birer geometri tahtası yapmışlardır. Kuzey'in yaptığı geometri tahtasındaki çiviler arasındaki uzaklık, Duru'nun yaptığı geometri tahtasındaki çiviler arasındaki uzaklıktan 1'er cm daha fazladır.



Kuzey'in hazırladığı geometri tahtası



Duru'nun hazırladığı geometri tahtası

Her ikisi de hazırladıkları geometri tahtası üzerinde eşit sayıda çivi çevreleyen karesel bölgeler gösteriyorlar.

Kuzey'in hazırladığı geometri tahtasında gösterdiği karenin alanı a^2 santimetrekare olduğuna göre Duru'nun hazırladığı geometri tahtasında gösterdiği karenin santimetrekare cinsinden alanını gösteren cebirsel ifade aşağıdakilerden hangisidir?

A) $a^2 - 4a + 4$

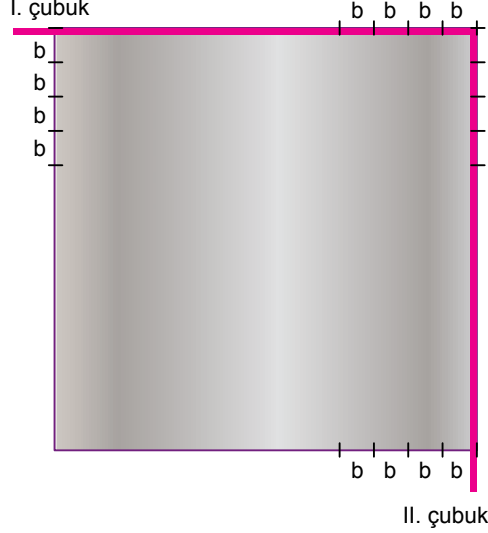
B) $a^2 - 6a + 9$

C) $a^2 - 8a + 16$

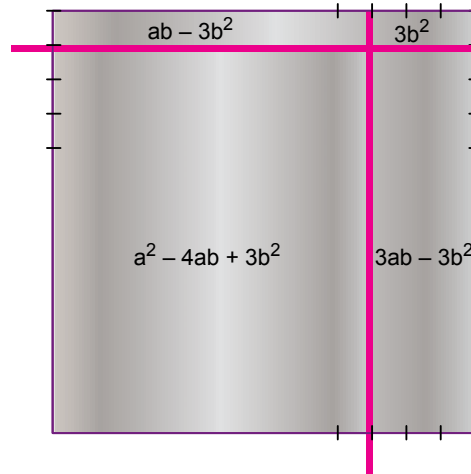
D) $a^2 - 12a + 36$

3. Ünite: Basit Olayların Olma Olasılığı/Cebirsel İfadeler ve Özdeşlikler

5. Elvan Öğretmen cebirsel ifadeler konusunu pekiştirmek amacıyla bir kenarının uzunluğu a cm olan kare şeklindeki bir levhanın iki kenarına hareket edebilen birer ince çubuk yerleştirerek bir düzenek kurmuştur. Bu düzenekte I. çubuk aşağı – yukarı doğru, II. çubuk ise sola – sağa doğru sadece b cm lik eşit aralıklar alınarak açılmış çentiklere yerleştirilerek hareket etmektedir. Elvan Öğretmen öğrencilerinden bu hareket sonucunda oluşan dört dörtgenel bölgenin de alanını bulmalarını istemektedir.



Örneğin, başlangıçtaki düzenekte I. çubuk b cm aşağı, II. çubuk $3b$ cm sola hareket ettirilerek oluşan dörtgenel bölgelerin santimetre kare cinsinden alanlarını gösteren cebirsel ifadeler şekilde gösterilmiştir.



Elvan Öğretmen başlangıçtaki düzenekte I. çubuğu $2b$ cm aşağı, II. çubuğu $3b$ cm sola kaydırıyor ve öğrencilerinden oluşan dörtgenel bölgelerin santimetre kare cinsinden alanlarını gösteren cebirsel ifadeleri bulmalarını istiyor.

Buna göre aşağıdakilerden hangisi öğrencilerin bulması gereken cebirsel ifadelerden biri değildir?


- A) $a^2 - 5ab + 6b^2$ B) $2ab - 6b^2$ C) $3ab - 6b^2$ D) $a^2 - 6ab + 9b^2$

3. Ünite: Basit Olayların Olma Olasılığı/Cebirsel İfadeler ve Özdeşlikler

6. Aşağıdaki şekilde bir lokantanın her birinin genişliği a cm, yüksekliği $(a + b)$ cm olan dört eş bölmeden oluşan kapısının görüseli verilmiştir.



Bu kapıda sensörler yardımıyla ortadaki iki bölme her iki tarafa da eşit miktarda açılmakta ve açılan bölmelerin bir kısmı diğer bölmelerin arkasında kalmaktadır.



Kapı tam açıldığında bölmeler arasında kalan bölgenin genişliği $2b$ cm olmaktadır.

Buna göre kapı tam açıldığında ortadaki bölmelerden birinin diğer bölmenin arkasında kalmayan kısmının santimetrekare cinsinden alanını gösteren cebirsel ifade aşağıdakilerden hangisidir?

A) $a(a + b)$

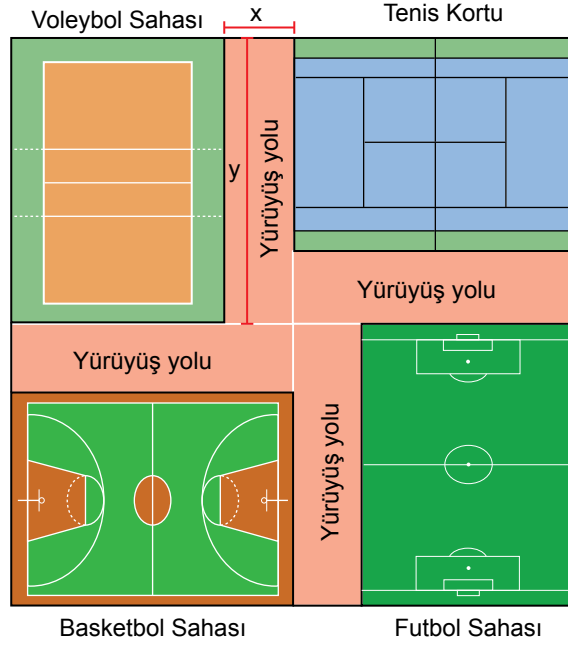
B) $2(a - b)^2$

C) $a^2 - b^2$

D) $a^2 + b^2$

3. Ünite: Basit Olayların Olma Olasılığı/Cebirsel İfadeler ve Özdeşlikler

7. Aşağıda bir spor kompleksinin krokisi verilmiştir.



Bu spor kompleksi kısa kenarının uzunluğu x metre, uzun kenarının uzunluğu y metre olan dikdörtgen şeklinde dört özdeş yürüyüş yolu, dikdörtgen şeklindeki birer voleybol, basketbol ve futbol sahası ile bir tenis kortundan oluşmaktadır.

Buna göre bu spor kompleksinde basketbol sahası olarak ayrılan bölgenin metrekare cinsinden alanını gösteren cebirsel ifade aşağıdakilerden hangisidir?

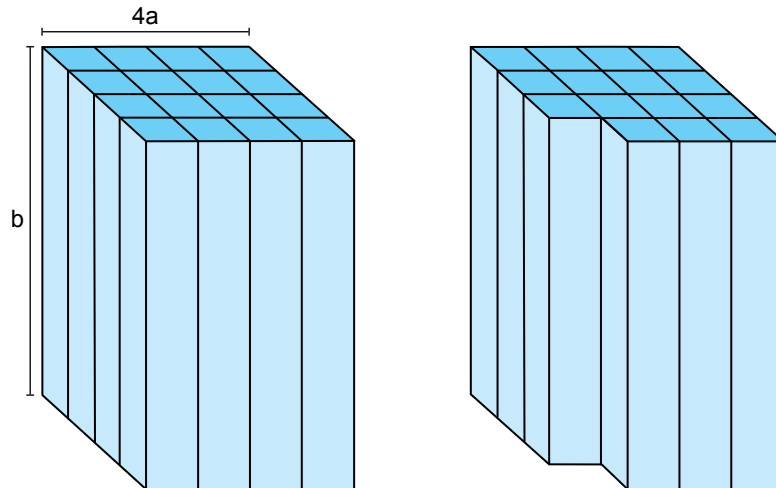
A) $x^2 - xy$

B) $y^2 - xy$

C) $x^2 - 2xy$

D) $y^2 - 2xy$

8. Taban ayrıt uzunluğu $4a$ birim ve yüksekliği b birim olan aşağıdaki kare prizma eş kare prizmalardan oluşmuştur.



Bir köşedeki bir kare prizma çıkarıldığında oluşan yeni şeklin yüzey alanındaki azalışı birimkare cinsinden gösteren cebirsel ifade aşağıdakilerden hangisidir?

A) $2a^2$

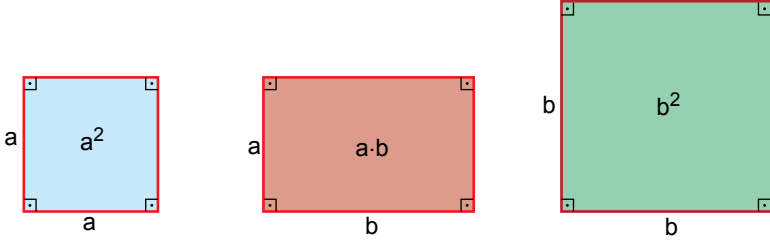
B) $2ab$

C) $ab + a^2$

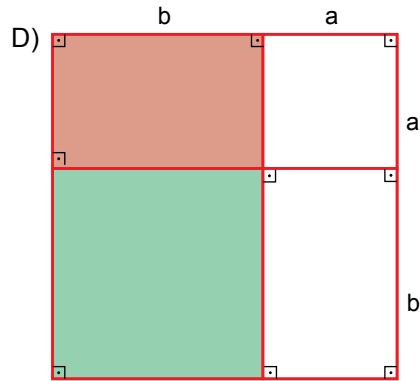
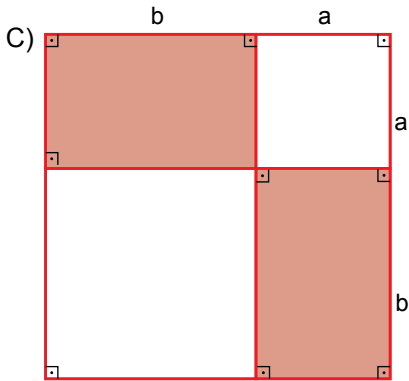
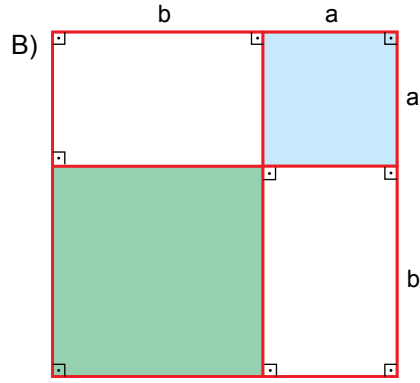
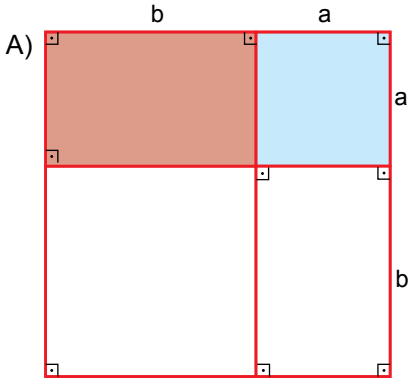
D) $ab + 2a^2$

3. Ünite: Basit Olayların Olma Olasılığı/Cebirsel İfadeler ve Özdeşlikler

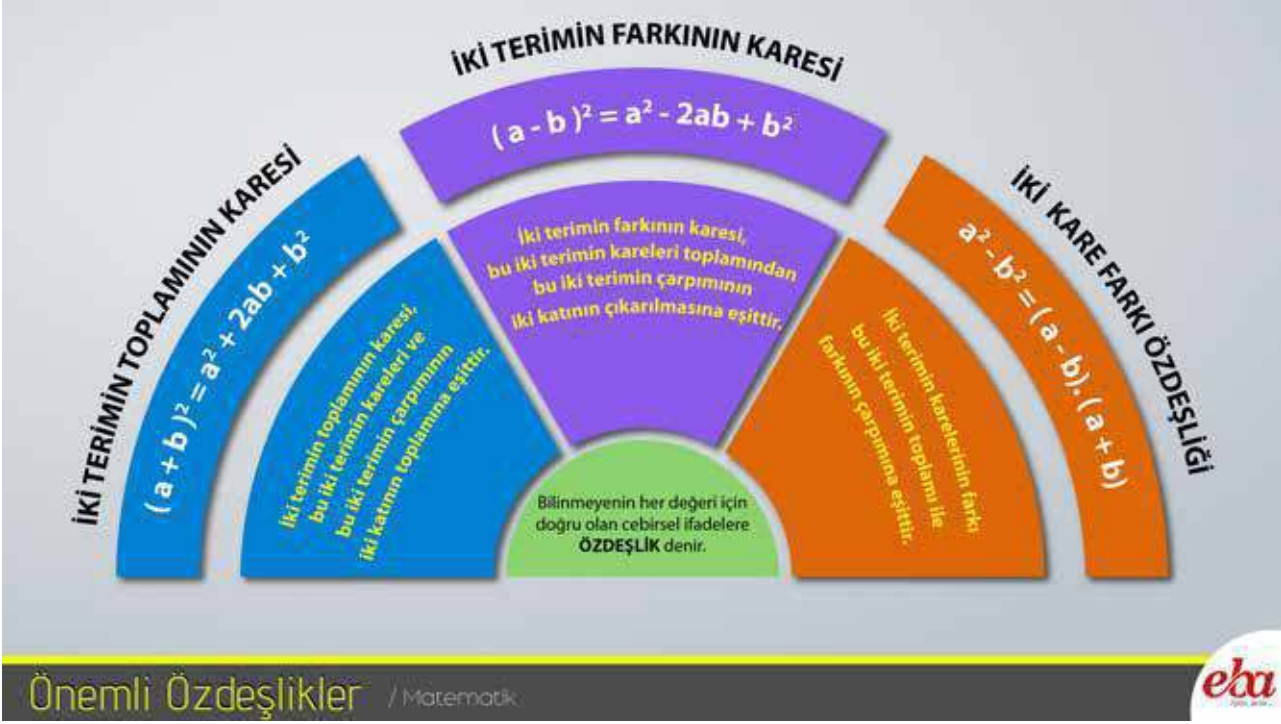
9. Aşağıda kenar uzunlukları verilen kartonların içlerine alanları yazılmıştır.



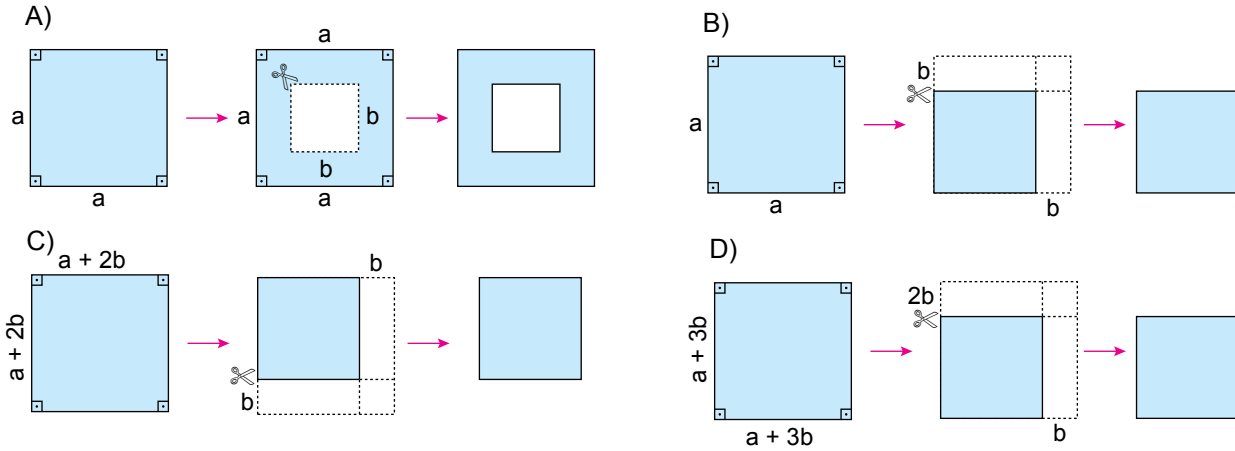
Buna göre aşağıdaki şekillerin hangisinde boyalı bölgelerin alanları toplamı $(a + b)^2 - 2ab$ cebirsel ifadesine eşittir?



10. Aşağıdaki infografik, EBA (Eğitim Bilişim Ağı)'dan alınmıştır.



Aşağıda verilen şekillerden hangisinin alanı infografikte verilen özdeşliklerden biri ile ifade edilemez?

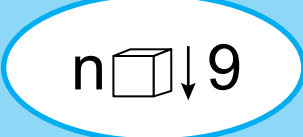





3. Ünite: Basit Olayların Olma Olasılığı/Cebirsel İfadeler ve Özdeşlikler

11. Erdem Öğretmen aşağıdaki resfebe görselinden faydalanarak öğrencilerinden yazdığı resfebeleri temsil eden cebirsel ifadeleri bulmalarını istemektedir.

RESFEBE

Resfebe; harf, sayı ve resimlerin bir arada kullanılarak bir kelimeyi bulmaya dayanan zeka oyunudur. Resfebe ismi, "resim" ve "alfabe" kelimelerinden üretilmiştir.

 <p>$n \text{ } \square \downarrow 9$</p>	 <p>$a \blacksquare \downarrow b \blacksquare$</p>	 <p>$n \blacksquare \uparrow rr$</p>
<p> (küp) ve \downarrow (azalma) olduğundan $n^3 - 9$ cebirsel ifadesi olur.</p>	<p>\blacksquare (kare) ve \downarrow (azalma) olduğundan $a^2 - b^2$ cebirsel ifadesi olur.</p>	<p>\blacksquare (kare), \uparrow (artma) ve rr (iki r) olduğundan $n^2 + 2r$ cebirsel ifadesi olur.</p>

Buna göre Erdem Öğretmen'in yazdığı  şeklindeki resfebeyi temsil eden cebirsel ifade aşağıdakilerden hangisi olur?

A) $(a - 4)^2$

B) $(a - 2)^2$

C) $(a + 2)^2$

D) $(a + 4)^2$

3. Ünite: Basit Olayların Olma Olasılığı/Cebirsel İfadeler ve Özdeşlikler

12. Ankara'dan Trabzon'a uçakla gidip dönecek olan Bülent'in istediği tarihlerdeki uçak seferlerine ait bilet fiyatları aşağıda verilmiştir.

Gidiş - Dönüş	
Ankara	Trabzon
12 Şubat Salı	15 Şubat Cuma
1 Yolcu	

Gidiş	
Saat	Ücret
08.15	150 TL
11.50	190 TL
16.05	170 TL
22.50	150 TL

Dönüş	
Saat	Ücret
10.00	190 TL
11.10	210 TL
18.00	210 TL
21.50	190 TL

Bülent yukarıda verilen fiyatlarla gidiş ve dönüş uçak biletlerini alıyor.

Buna göre Bülent'in uçak biletlerini alırken ödediği toplam tutar için kaç farklı olası durum vardır?

- A) 4 B) 6 C) 8 D) 10

13. Bir olayın olma olasılığı = $\frac{\text{İstenilen olası durumların sayısı}}{\text{Tüm olası durumların sayısı}}$

Kerem boş olan kumbarasına sadece 1 liralık ve 50 kuruşluk madeni paralar atarak para biriktiriyor. Bu parayla bir oyuncak helikopter almak için oyuncakçıya gidiyor. Kumbarasındaki para aşağıda fiyatları verilen helikopterlerden pahalı olanı almaya yetmediği için ucuz olanı alıyor.



Kerem'in kumbarasında biriken paraların arasından rastgele çekilen bir madeni paranın 1 lira olma olasılığı $\frac{1}{5}$ 'tir.

Buna göre Kerem'in helikopteri aldıktan sonra kaç lirası kalmıştır?

- A) 1 B) 2 C) 3 D) 4

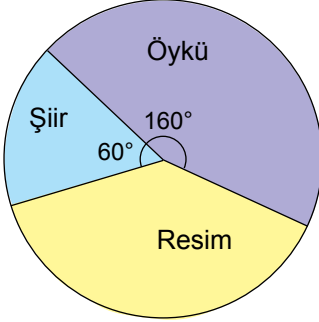
3. Ünite: Basit Olayların Olma Olasılığı/Cebirsel İfadeler ve Özdeşlikler

14. Bir olayın olma olasılığı = $\frac{\text{İstenilen olası durumların sayısı}}{\text{Tüm olası durumların sayısı}}$

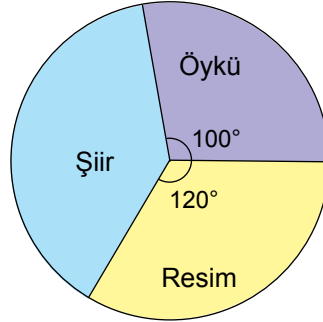
1 - 7 Mart tarihleri arasında kutlanan Yeşilay Haftası etkinlikleri kapsamında bir ilçede orta öğretim öğrencileri arasında şiir, öykü ve resim alanlarında yarışma düzenlenmiştir. Yarışmaya katılan 90 eserin arasından rastgele seçilen bir eserin şiir olma olasılığı en fazla, resim olma olasılığı en azdır.

Buna göre eserlerin dağılımını gösteren dairesel grafik aşağıdakilerden hangisi olabilir?

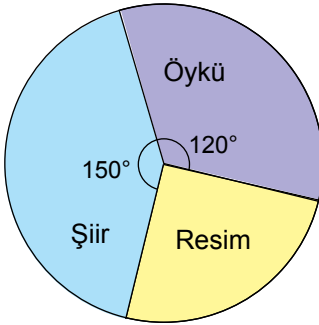
A) Grafik: Eserlerin Dağılımı



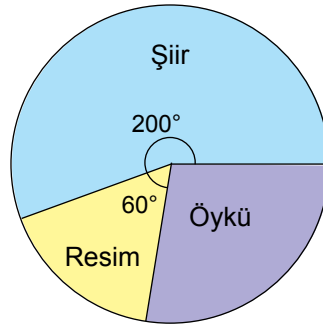
B) Grafik: Eserlerin Dağılımı



C) Grafik: Eserlerin Dağılımı



D) Grafik: Eserlerin Dağılımı



15. Bir olayın olma olasılığı = $\frac{\text{İstenilen olası durumların sayısı}}{\text{Tüm olası durumların sayısı}}$

Bir otelde yapılacak çekiliş sonucunda rastgele seçilen bir müşteriye sürpriz hediyeler verilecektir. Bu otelde konaklayan kadın müşterilerin sayısı, erkek müşterilerin sayısından fazladır.

Otele 5 evli çift daha gelmiş ve bu müşteriler de yapılacak olan çekilişe dahil edilmiştir.

Buna göre yeni gelen müşterilerden sonra yapılacak olan çekilişi kazanan kişinin erkek veya kadın olma olasılığı ile ilgili aşağıdakilerden hangisi doğrudur?

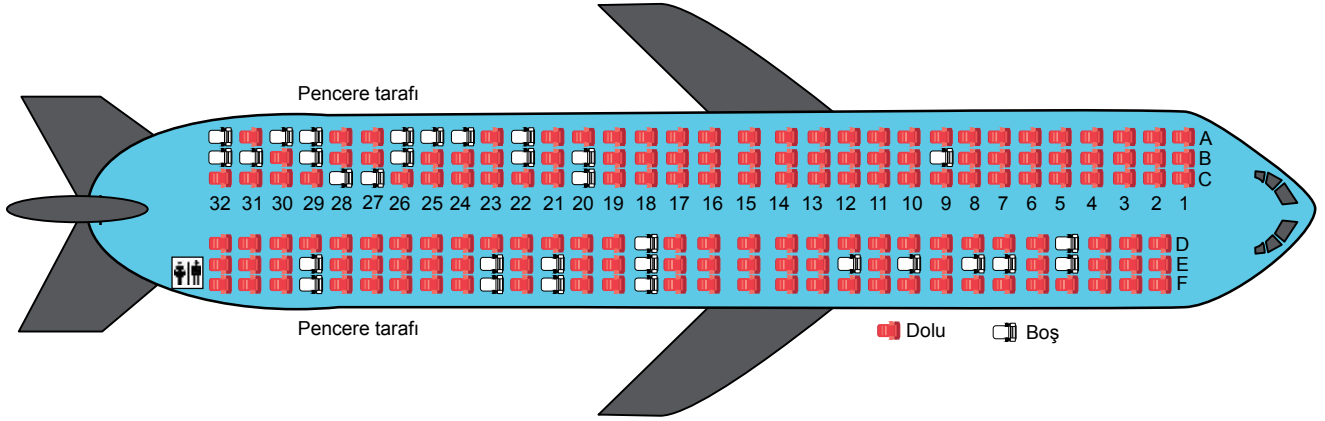
- A) Kadın olma olasılığı artmıştır.
- B) Erkek olma olasılığı artmıştır.
- C) Erkek olma olasılığı azalmıştır.
- D) Kadın olma olasılığı değişmemiştir.

3. Ünite: Basit Olayların Olma Olasılığı/Cebirsel İfadeler ve Özdeşlikler

16. Bir olayın olma olasılığı = $\frac{\text{İstenilen olası durumların sayısı}}{\text{Tüm olası durumların sayısı}}$

Uçak ile Ankara'dan Trabzon'a gidecek olan Kerem ve dedesi havaalanına gelmiş ve uçakta oturacakları koltukları belirlemek için gişe memurunun yanına gitmişlerdir. Kerem gişe memuruna dedesi ile yan yana, dedesi ise pencere kenarına oturmak istediğini söylemiştir.

Aşağıdaki görselde dolu koltuklar "kırmızı", boş koltuklar ise "beyaz" renkle gösterilmiştir.



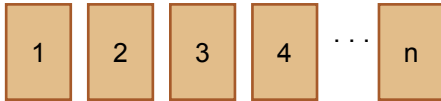
Gişe memuru boş koltuklar arasından her ikisinin de isteğine uyan iki koltuğu rastgele seçip onlara vermiştir.

Buna göre gişe memurunun Kerem'e 26B numaralı koltuğu verme olasılığı kaçtır?

- A) $\frac{1}{2}$ B) $\frac{1}{4}$ C) $\frac{1}{8}$ D) $\frac{1}{16}$

17. Bir olayın olma olasılığı = $\frac{\text{İstenilen olası durumların sayısı}}{\text{Tüm olası durumların sayısı}}$

Aşağıda üzerine 1'den n'ye kadar olan sayma sayıları yazılı olan kartlar verilmiştir.



Bu kartların arasından rastgele çekilen bir kartın üzerinde yazan sayının asal sayı olma olasılığı $\frac{1}{2}$ 'dir.

Buna göre n en çok kaçtır?

- A) 6 B) 8 C) 10 D) 12

3. Ünite: Basit Olayların Olma Olasılığı/Cebirsel İfadeler ve Özdeşlikler

18. Bir olayın olma olasılığı = $\frac{\text{İstenilen olası durumların sayısı}}{\text{Tüm olası durumların sayısı}}$

Aşağıda bir mağazanın düzenlediği bahar kampanyası kapsamında müşterilerine sunduğu 3 farklı indirim seçeneği ile ilgili bilgileri içeren görsel verilmiştir.



Bu mağazada alışveriş yapan müşteriler, ödeme yapmak için kasaya geldiklerinde bu 3 indirim seçeneğinden istedikleri birini seçmektedirler. Mert bu mağazadan tanesi 30 TL alan tişörtlerden 3 tane alıyor ve kasaya geldiğinde bu seçeneklerden birini rastgele seçiyor.

Bu durumda Mert'in aldığı tişörtlerin tanesini 20 liradan almış olma olasılığı kaçtır?

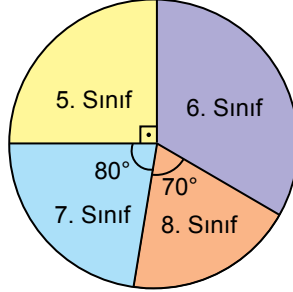
- A) 0 B) $\frac{1}{3}$ C) $\frac{2}{3}$ D) 1

3. Ünite: Basit Olayların Olma Olasılığı/Cebirsel İfadeler ve Özdeşlikler

19. Bir olayın olma olasılığı = $\frac{\text{İstenilen olası durumların sayısı}}{\text{Tüm olası durumların sayısı}}$

Aşağıdaki daire grafiğinde Cumhuriyet Ortaokulu öğrencilerinin sınıf düzeylerine göre dağılımı verilmiştir.

Grafik: Sınıf Düzeylerine Göre Öğrenci Dağılımı



Cumhuriyet Ortaokulunda 23 Nisan Ulusal Egemenlik ve Çocuk Bayramı'nda konuşma yapması için ortaokul öğrencileri arasından biri rastgele seçilecektir. Bu okulda 6. sınıfta öğrenim gören kız öğrenci sayısı erkek öğrenci sayısından azdır.

Buna göre seçilen öğrencinin 6. sınıfta öğrenim gören bir kız öğrenci olma olasılığı aşağıdakilerden hangisi olamaz?

- A) $\frac{1}{12}$ B) $\frac{1}{10}$ C) $\frac{1}{8}$ D) $\frac{1}{6}$

20. Bir olayın olma olasılığı = $\frac{\text{İstenilen olası durumların sayısı}}{\text{Tüm olası durumların sayısı}}$

Ahmet, Burcu ve Emine'nin de içinde olduğu bir grup sporcu yarıyıl tatilinde Antalya'ya kampa gitmiştir. Kalacakları otelde tek numaralı odalar deniz, çift numaralı odalar kara manzaralıdır.

		DENİZ				
KAT PLANI	1	3	5	7	9	
	2	4	6	8	10	
		KARA				

Otele erken giriş yapan Burcu ve Emine aynı katta bulunan deniz manzaralı farklı odalara yerleşmişlerdir.

Daha sonra gelen Ahmet ise deniz manzaralı odalar dolu olduğundan Burcu ve Emine ile aynı katta bulunan tamamı boş olan kara manzaralı odalardan birine rastgele yerleşmiştir.

Ahmet'in odasının Burcu'nun veya Emine'nin odasının tam karşısında olmama olasılığı kaçtır?

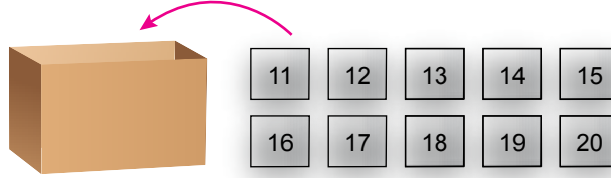
- A) $\frac{1}{3}$ B) $\frac{3}{5}$ C) $\frac{3}{10}$ D) $\frac{1}{5}$

3. Ünite: Basit Olayların Olma Olasılığı/Cebirsel İfadeler ve Özdeşlikler

21. 1 ve kendisinden başka çarpanı (böleni) olmayan, 1'den büyük doğal sayılara asal sayı denir.

$$\text{Bir olayın olma olasılığı} = \frac{\text{İstenilen olası durumların sayısı}}{\text{Tüm olası durumların sayısı}}$$

Aşağıdaki kutunun içerisinde 1'den 10'a kadar olan doğal sayılardan ardışık 4 tanesinin yazılı olduğu 4 kart vardır.



Şekildeki gibi 11'den 20'ye kadar olan doğal sayıların yazılı olduğu kartlar bu kutunun içine atılıyor.

Kutudan rastgele çekilen kartın üzerinde yazılı sayının asal sayı olma olasılığı $\frac{1}{2}$ olduğuna göre başlangıçta bu kutunun içindeki kartlarda yazılı en büyük sayı aşağıdakilerden hangisidir?

A) 5

B) 6

C) 7

D) 8